





<p>1</p> <p>Fru Hansen har 10 g mer gull enn Fru Nilsen, men hun har 40 g mindre enn Herr Hansen</p> 	<p>3</p> <p>Den totale mengden av gull for alle tre familiene er 4390 g. Camilla Nilsen har minst med 100 g</p> 
<p>2</p> <p>Camilla Nilsen og Emma Knutsen har til sammen like mange hg som Fru Knutsen.</p> 	<p>4</p> <p>Tre familier kranglet alltid om hvem som var rikest. Se om dere kan sortere informasjonen på kortene og finne ut hvor mange gram (g) gull hver familie har.</p> 

5

Elias Knutsen har dobbelt så mange gull som Olav Hansen, og Herr Hansen har fire ganger mer enn Bernard Nilsen.



7

Tre familier vil sammenligne og se hvem som eier mest gull av dem. De tre familiene er familien Knutsen, familien Nilsen og familien Hansen.



6

Fru Nilsen har 50 g gull mer enn Herr Knutsen og 50 g mindre enn Herr Hansen.



8

Herr Knutsen har 100 g mindre enn Herr Hansen og 140 g mer enn Fru Knutsen.



Kopioriginal 6.89 b-d

9

Bernard Nilsen har 10 g mindre enn Olav Hansen og 20 g mer enn Siv Hansen.



11

Vekten av Emma Knutsens gull er lik med summen av vekten gullet til Camilla Nilsen og Olav Hansen.



10

Herr Nilsen har samme mengde gull som Bernard Nilsen og Fru Nilsen har til sammen.



12

Vekten av Fru Hansen sitt gull pluss Olav Hansen sitt gull er like mye som det dobbelte av Fru Knutsen eier. Herr Hansen har 600 g gull.



Kopioriginal 6.89 b-d